

Comme tu l'as fait sur la fiche **EPI 4**, j'aimerais construire l'une de ces rosaces du canton de Montmédy.


1/ Choisis une rosace. Dessine, à main levée, le motif de base défini sur la fiche **EPI 3**, en le simplifiant si nécessaire.

2/ Ecris le programme de construction de ton motif. Sois rigoureux dans l'utilisation du vocabulaire et des notations mathématiques.


N'oublie pas d'indiquer le nombre de motifs nécessaires pour obtenir la rosace complète (qui devra être un cercle de 28 cm de diamètre).

*Pour les rosaces A, B, C et F, ne pas tenir compte du cœur de la rosace.*

A



D




B




E



C



F



Mais au fait...

Où ont été prises ces photos ?